

平成26年度

入学者選抜学力検査問題

検査1 社 会

9：10 ～ 10：00

注 意

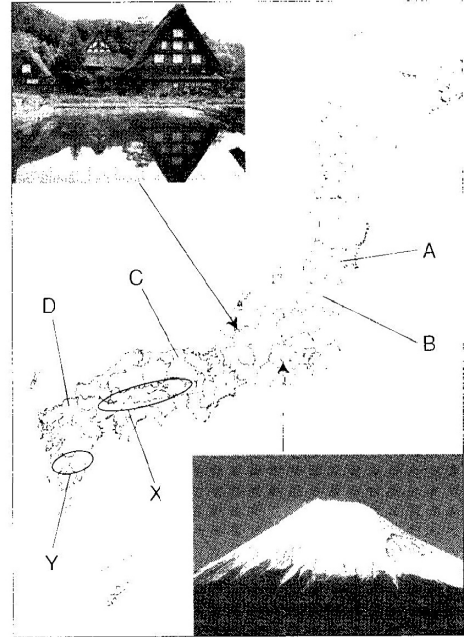
- 1 監督の先生の指示があるまで、開いてはいけません。
- 2 問題は、6 ページあります。
- 3 「開始」の合図があったら、はじめなさい。
- 4 答えは、すべて、解答用紙に記入しなさい。
- 5 「終了」の合図で、すぐ筆記用具をおき、解答用紙を裏返しにしなさい。
- 6 その他、監督の先生の指示に従いなさい。

荒井学園 新川 高等学校

1 日本の諸地域や工業に関して、あとの問いに答えなさい。 図 I

- (1) 次の説明文は何県にある都市を説明したものか、  
図 I の A ~ D から 1 つ選び、記号で答えなさい。

この都市は、江戸時代には会津藩の城下町として栄え、現在でも若松城（鶴ヶ城）や白虎隊など、歴史上の事物が観光資源として有名である。海から遠い会津盆地周辺には、保存のために乾燥させた貝柱を用いた「こづゆ」などの郷土料理がある。また、会津塗などに代表される伝統工芸もあり、多くの観光客を集めている。







- (2) 図 I の X の地域の気候について述べた文として、最も適当なものを次のア～エから 1 つ選び、記号で答えなさい。

- ア 南から北上する黒潮の影響を受けて冬でも温暖で、一年を通して雨が多い。
- イ 冬の海から蒸発した水分を多く含む北西の季節風が山地にぶつかるので、雪が多い。
- ウ 夏も冬も季節風が山地にさえぎられるため、一年中温暖で降水量が少ない。
- エ 日本の他の地域よりも冬の寒さが厳しく、夏も涼しい。

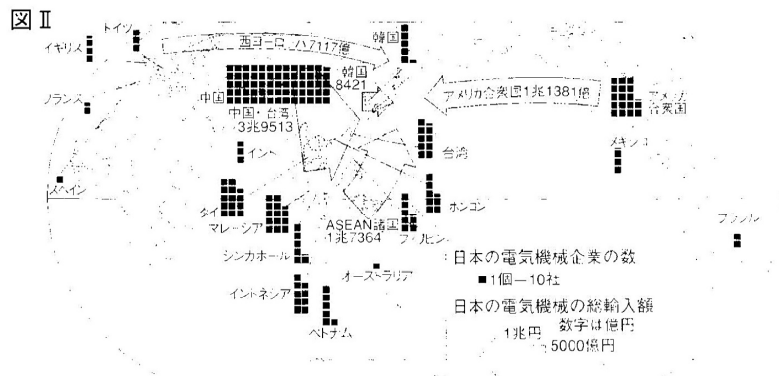
- (3) 図 I の写真にある「富士山」と「五箇山合掌造り集落」は世界遺産に登録されている。同様に登録されているものを次のア～エから 1 つ選び、記号で答えなさい。

- ア 厳島神社
- イ 大橋立
- ウ 田富岡製糸場
- エ 瀬戸大橋

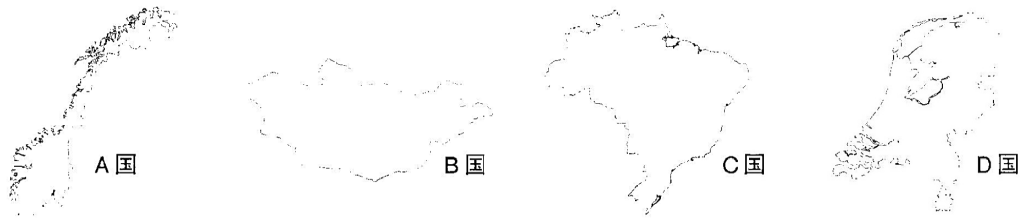


- (4) 図 I の Y の地域では、畑作や畜産がさかんである。その理由を【 】内の語句を用いて説明しなさい。 【シラス台地 水はけ】

- (5) 戦後、日本の工業は加工貿易が特徴的であったが、1980年代以降、図 II のように海外へ進出した工場生産する企業が増えている。この結果、国内での生産が衰退していった。この現象を何というか、答えなさい。



2 地図や資料をみて、あとの問いに答えなさい。（各地図の縮尺はそれぞれ違う）



(1) A国はある半島に位置しており、海岸線の出入りがとても複雑である。その半島を次のア～エから1つ選び、記号で答えなさい。

- ア マレー半島      イ アラビア半島  
ウ イベリア半島    エ スカンディナ비아半島

(2) B国はある大陸の内陸国で遊牧地域がある。この地域で見られる伝統的な住居を次のア～エから1つ選び、記号で答えなさい。



(3) C国はある大陸で一番広い国である。次の問いに答えなさい。

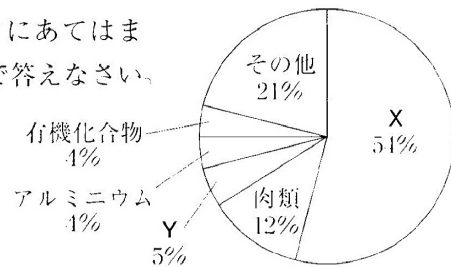
1 この大陸のほとんどの国がスペイン語を公用語にしているが、C国はそれとは違う言語を公用語としている。その言語を次のア～エから1つ選び、記号で答えなさい。

- ア イタリア語      イ 英語  
ウ ホルトガル語    エ フランス語

2 C国から日本への輸出品について、資料IのX・Yにあてはまるものの組み合わせを次のア～エから1つ選び、記号で答えなさい。


- ア X：コーヒー      Y：鉄鉱石  
イ X：鉄鉱石      Y：コーヒー  
ウ X：小麦          Y：石炭  
エ X：石炭          Y：小麦

資料I 日本への輸出品  
【総額】10,091億円（2011年）



（国勢調査 2013より）

(4) D国は古くから浅い海を干拓して国土を広げてきた。排水には右の写真の施設を使っている。この干拓地を何と呼ぶか、答えなさい。



(5) A国～D国からEUに加盟している国を選び、記号で答えなさい。

(6) 資料IIはEU・アメリカ・日本についてのものである。EUにあたるものを次のア～ウから1つ選び、記号で答えなさい。（EUの輸出総額は域外貿易の総額）

資料II

	人口(万人) (2011年)	輸出総額(百万ドル) (2010年)	自動車生産台数(千台) (2010年)	小麦生産(千t) (2010年)
ア	31,159	1,277,580	5,731	60,062
イ	12,781	769,839	13,791	571
ウ	52,186	1,527,713	15,209	142,032

（帝国書院 統計より）

3 右の年表をみて、あとの問いに答えなさい

- (1) 年表中のAを進めた天皇の名前を次のア～エから1つ選び、記号で答えなさい。また資料Iは、天皇が倒幕のため味方につけた鎌倉幕府に従わない武士たちである。彼らは当時、何と呼ばれたか、答えなさい。資料I

- ア 天智天皇  
イ 後鳥羽天皇  
ウ 桓武天皇  
エ 後醍醐天皇




- (2) 年表中のBに関して、次の問いに答えなさい。

- 1 足利尊氏が、幕府による政治を再興した理由を次のア～エから1つ選び、記号で答えなさい。
- ア 天皇が、仏教による国づくりを進めようとしたから。  
イ 天皇が、貴族による摂関政治を進めようとしたから。  
ウ 天皇が、武家政治の慣習を無視したから  
エ 天皇が、再び院政を行おうとしたから。

- 2 明の皇帝から「日本国王」に任ぜられた3代将軍が建設した建物を、次のア～エから1つ選び、記号で答えなさい



平等院鳳凰堂



鹿苑寺金閣



中尊寺金色堂



慈照寺銀閣

- (3) 年表中のCののち起こった、実力で守護大名にとって代わろうとする風潮を何というか、答えなさい。

- (4) 年表中のDの時期に行われた江戸幕府の財政改革について、次の問いに答えなさい。

- 1 次のa～cの改革を古い順に並べなさい。
- a 天保の改革    b 享保の改革    c 寛政の改革

- 2 資料IIは、年貢収入に加え長崎貿易の奨励や商品流通から得る利益を財政改革に生かしたり、また大坂や江戸の商人の力を借りて新田開発や蝦夷地開発を試みたりした人物である。この人物の名前を次のア～エから1つ選び、記号で答えなさい。

- ア 田沼意次    イ 水野忠邦    ウ 徳川吉宗    エ 松平定信

資料II



年	できごと
1333	鎌倉幕府滅亡
1334	建武の新政……A
1336	南北朝の対立
1338	室町幕府成立……B
1467	応仁の乱………C
1573	室町幕府滅亡
1590	豊臣秀吉全国統一
1603	江戸幕府成立
1641	鎖国の完成
↑ ↓ D	
1853	ペリー来航



4 右の年表をみて、あとの問いに答えなさい。

(1) 年表中のAとCについての説明としてあてはまるものを次のア～エからそれぞれ1つずつ選び、記号で答えなさい。

- ア 全国的に統一した基準で土地の広さや収穫高を調べ、検地帳に記載された農民から年貢を徴収した。
- イ 政府が地主から強制的に買い上げた土地を小作人に売り渡すことにより、多くの自作農が生まれた。
- ウ 戸籍にもとづき農民に口分田を与え、税を負担させた。
- エ 土地所有者に地券を与え、地価の3%を租税として現金で納入させた。

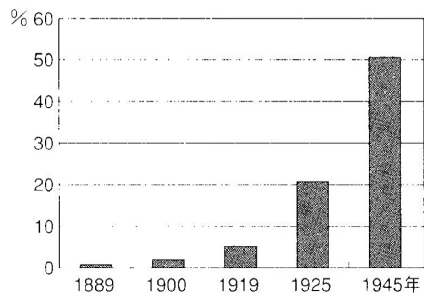
(2) 次の文を読み、**B** にあてはまる語句を答えなさい。

物価の上昇が激しいことに加え、シベリア出兵を見込んだ商人が米の買い占めをし、米価が急激に上昇したことが原因で、各地で米の安売りを求める運動が起きた。

(3) 資料Iについて、次の問いに答えなさい。

- 1 Dのように生活の欧米化が進んだことを何というか、答えなさい。
- 2 Eの(X)にあてはまる工場名を答えなさい。
- 3 Fに関して、資料IIで1925年に比べて1945年に有権者の数が急に増えている。その理由を答えなさい。

資料II 全人口に対する有権者の割合



1 Gについて、児童の集団疎開が行われた理由として適切なものを次のア～エから1つ選び、記号で答えなさい。

- ア 食糧増産のために児童を農村に送り、不足する労働力を補おうとした。
- イ 都市の児童に農業体験をさせて、自然保護に関心を持たせようとした。
- ウ 都市に人口が集中したので、過疎化が進む農村へ児童を分散させようとした。
- エ 激しくなった都市への空襲をさけるため、児童を農村へ避難させようとした。

年表

年	できごと
1873	地租改正……………A
1889	大日本帝国憲法発布
1894	日清戦争
1904	日露戦争
1918	各地で <b>B</b> が起きる
1925	治安維持法制定
1937	日中戦争
1941	太平洋戦争
1945	ポツダム宣言を受諾 GHQ、農地改革を指令…C
1946	日本国憲法を公布

資料I

**写真で見る日本史**



**D 西洋文明の導入**  
新橋駅前の鉄道馬車  
西洋の生活様式、技術、学問が盛んにとり入れられた。



**E 鉄鋼の大量生産開始**  
( X )  
九州の炭田を利用した製鉄は、日本の重化学工業の基礎となった。



**F 普通選挙を求めて**  
尾崎行雄の演説  
納税額による参政権の制限の廃止を求めて運動が広がった。



**G 戦争末期の子供たち**  
疎開する生徒たち  
大都市の国民学校3年生以上の児童が集団疎開した。

5 図や資料をみて、あとの問いに答えなさい。

(1) 次の問いに答えなさい。

1 資料Ⅰと資料Ⅱから読み取れる社会保障の課題について、【 】内の語句を用いて述べなさい。

【 少子高齢社会 社会保障費 】

2 日本の社会保障制度の柱は4つある。それは、社会保険、社会福祉、公衆衛生ともう1つは何か、答えなさい。

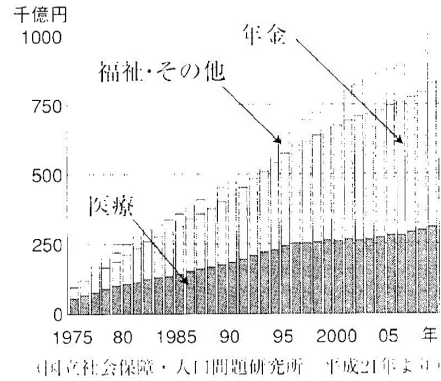
(2) 図Ⅰをみて、次の問いに答えなさい。

1 商品が生産者から卸売り業者、小売業者などを通じて、消費者に届くまでのみちすじを何というか、答えなさい。

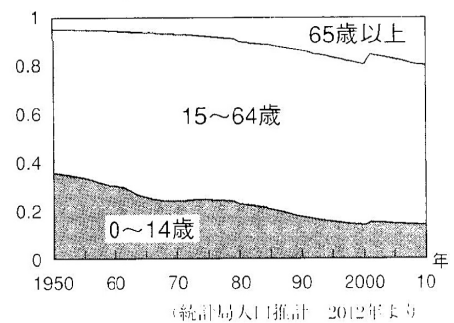
2 最近では、スーパーマーケットやコンビニエンスストアなどのレジで、aのような装置が使われている。その理由として適切なものを次のア～エから1つ選び、記号で答えなさい。

- ア 商品の値段を読み取り、購入者の銀行口座から代金が引き落とされるようになっているから。
- イ 商品の売れ行きを購入者に知らせることができ、購買意欲を高めるから。
- ウ 商品名を登録することにより、購入者の自宅へ商品をお届けする仕組みになっているから。
- エ 商品の値段、売り上げ数などの情報を即座に集め、製造や販売を合理化できるから。

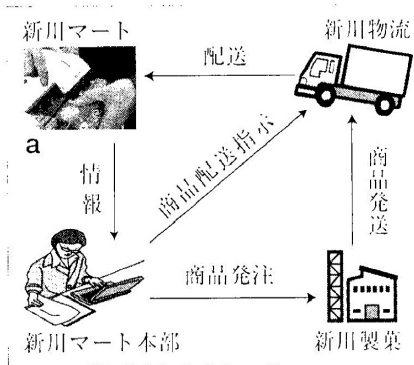
資料Ⅰ 社会保障費の推移



資料Ⅱ 人口構成比 (3分類)



図Ⅰ



(3) 資料Ⅲをみて、次の問いに答えなさい。

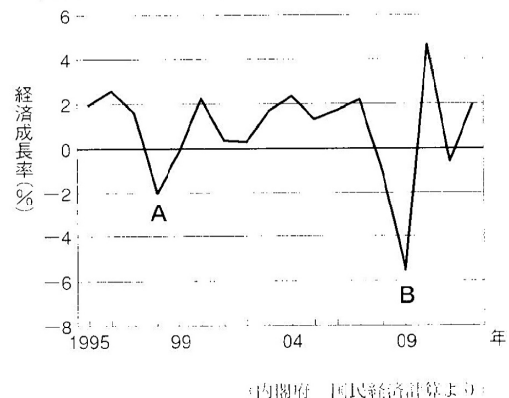
1 A、Bで経済成長率が落ち込んだ理由は何か。次のア～エからそれぞれ1つずつ選び、記号で答えなさい。

- ア 消費税が5%へ増税
- イ ドル・ショックによる為替不安
- ウ オイル・ショックによる原油高
- エ 世界金融危機による円高

2 不景気のときに、財政政策として通常とられる方法として適切なものを次のア～エから1つ選び、記号で答えなさい。

- ア 増税する
- イ 金利を上げる
- ウ 公共投資を増やす
- エ 国債を売る

資料Ⅲ 日本の経済変動



6 下の図は、ゆうじ君が公民の授業で学習した国会・内閣・裁判所について、ノートにまとめたものである。あとの問いに答えなさい。

〔国会・内閣・裁判所の関係と主な仕事〕	
国会 {主権者である国民が直接選んだ代表者によって構成 法律・予算をつくる}	
a 内閣総理大臣の指名	
b 内閣不信任の決議	疑問点 ⇒ ① 代表者を選ぶ選挙
c 裁判官の弾劾裁判	② 法律の制定
内閣 {内閣総理大臣と国務大臣で構成 法律で定められたことを実行する}	
d 衆議院の解散	
e 国会に対する連帯責任	疑問点 ⇒ ③ 国会と内閣の関係
f 最高裁判所長官の指名	
裁判所 {最高裁判所と下級裁判所とで構成 法に基づいて紛争を解決する}	
g 法律の違憲審査	
h 命令・規則・処分の違憲・違法審査	疑問点 ⇒ ④ 裁判所の仕事とは

(1) 図中の a ~ h は、国会・内閣・裁判所のそれぞれの権力であるが、1つの機関に権力が集中することを防ぐためにとられている制度を何というか、答えなさい。

(2) 疑問点 1 について、衆議院議員選挙の選挙制度として正しいものを次のア~エから1つ選び、記号で答えなさい。

- |               |         |
|---------------|---------|
| ア 大選挙区制       | イ 小選挙区制 |
| ウ 小選挙区比例代表並立制 | エ 比例代表制 |

(3) 疑問点 2 について、国会議員が提出する法律案を何というか、答えなさい。

(4) 疑問点 3 について、日本の国会と内閣に関する次の文の  にあてはまる語句を答えなさい。

内閣は、国会の信任にもとづいて成立し、国会に対して連帯して責任を負う。この制度を  という。

(5) 疑問点 4 について、資料 I・II をみて、次の問いに答えなさい。

- 資料 I のように、同一の事件について通常 3 回まで裁判を受けられることを何というか、答えなさい。
- 資料 II のように、国民のなかから選ばれた人が刑事裁判に参加し、裁判官といっしょに被告人の有罪・無罪や刑の内容を決める制度を何というか、答えなさい。

