

平成25年度

入学者選抜学力検査問題

検査1 社 会

9：10 ～ 10：00

注 意

- 1 監督の先生の指示があるまで、開いてはいけません。
- 2 問題は、6ページあります。
- 3 「開始」の合図があったら、はじめなさい。
- 4 答えは、すべて、解答用紙に記入しなさい。
- 5 「終了」の合図で、すぐ筆記用具をおき、解答用紙を裏返しにしなさい。
- 6 その他、監督の先生の指示に従いなさい。

荒井学園 新川高等学校

1 地図や資料を見て、あとの問いに答えなさい。

- (1) 資料Ⅰと地図Ⅰを見て、秋田市と宮古市の気温の違いをもたらす原因を、[千島]という語句を使い書きなさい。

資料Ⅰ 月別平均気温 (°C)

	3月	4月	5月	6月	7月
秋田市	3.6	9.6	14.6	19.2	22.9
宮古市	3.3	8.7	13.0	16.0	19.8

(平成24年理科年表より)

- (2) 資料Ⅱは地図Ⅰ中A～D県の果実の生産量を示したものです。地図中B県にあてはまるものを、次のア～エから1つ選び、記号で答えなさい。

資料Ⅱ 県別果実生産量 (2010年) (t)

	りんご	さくらんぼ	みかん	もも
ア	452500	807	-	-
イ	43700	14300	-	8870
ウ	1190	1260	-	47900
エ	-	-	152300	10900

(統計資料 日本 農業・漁業・林業より)

- (3) 資料Ⅲを見て、茨城県のピーマンの栽培方法の特徴を書きなさい。

- (4) 資料Ⅳは地図Ⅰ中P～S県の産業別人口の割合を示したものです。R県にあてはまるものを、次のア～エから1つ選び、記号で答えなさい。

資料Ⅳ 産業別人口の割合 (%)

	1次産業	2次産業	3次産業
ア	2.8	34.4	62.9
イ	0.4	18.7	80.8
ウ	4.3	34.8	61.0
エ	12.7	22.8	64.5

(平成17年国勢調査より)

- (5) 地図Ⅱの●はある工場の分布を示したものです。あてはまる工場の種類を次のア～エから1つ選び、記号で答えなさい。

ア 自動車工場 イ I C工場
ウ 製油所 エ 製鉄所

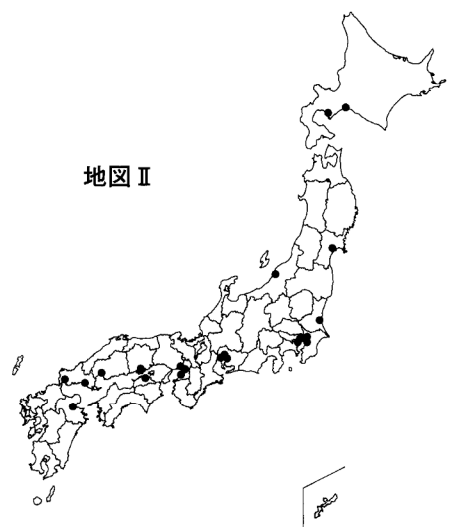
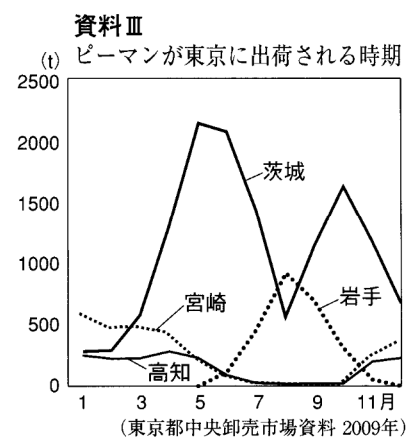
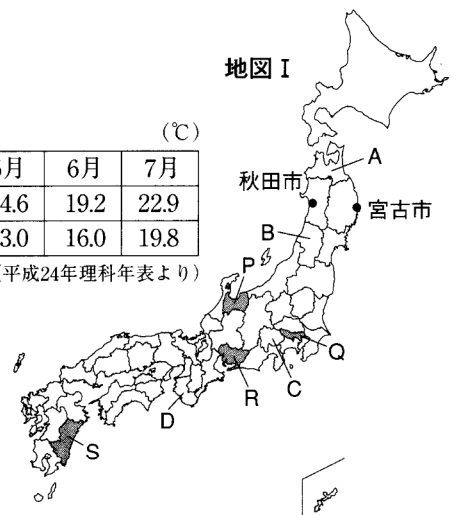
- (6) 資料Ⅴは横浜港・名古屋港・神戸港・成田空港の主要輸出品目を示したものです。成田空港にあてはまるものを次のア～エから1つ選び、記号で答えなさい。

資料Ⅴ おもな港の主要輸出品目割合 (2011年)

(金額の単位は10億円)

ア		イ		ウ		エ	
プラスチック	5.5%	自動車	25.3%	コンピュータ部品	8.4%	集積回路	7.5%
建設用機械	4.8%	自動車部品	14.3%	自動車部品	6.3%	光学機器	7.3%
光学機器	3.4%	金属加工機械	5.0%	プラスチック	5.4%	金	6.2%
金額の計	5366	金額の計	9062	金額の計	4709	金額の計	9228

(国勢図会2012年より)

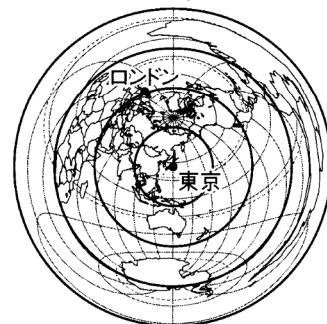


2 地図や資料を見て、あとの問いに答えなさい。

- (1) 地図Ⅰを見て、東京からロンドンまでの距離を、次のア～エから1つ選び、記号で答えなさい。ただし、地図中の4つの円は等間隔の同心円です。

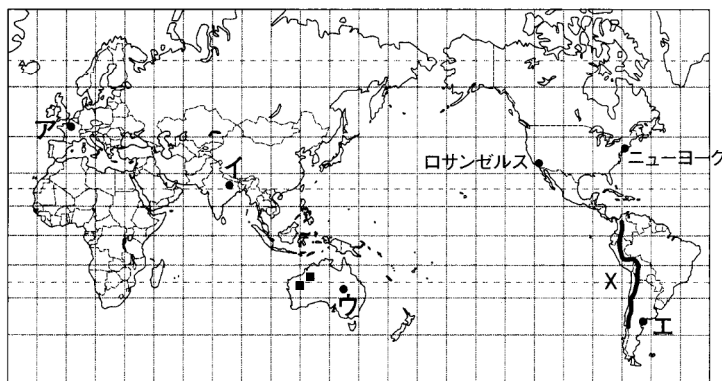
ア 約5000km イ 約10000km
ウ 約20000km エ 約40000km

地図Ⅰ 中心からの距離と方位が正しい地図



- (2) 地図Ⅱを見て、アメリカの本土にはいくつ標準時があるか答えなさい。

地図Ⅱ (経線間隔は15°)

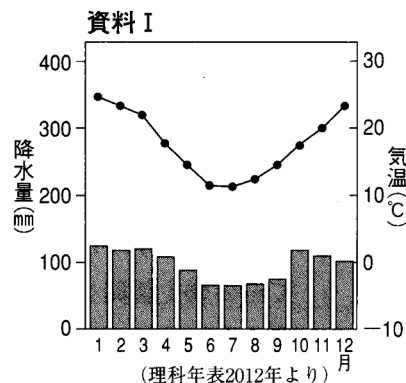


- (3) 資料Ⅰの雨温図に該当する都市を地図Ⅱ中ア～エから1つ選び、記号で答えなさい。

- (4) 地図ⅡのXの示す山脈は日本列島と同じ環太平洋造山帯に属します。この山脈名を書きなさい。

- (5) 資料Ⅱは、地図Ⅱのオーストラリアの■で示す鉱産資源の国別産出量を示したものです。この鉱産資源名を次のア～エから1つ選び、記号で答えなさい。

ア 石炭 イ 鉄鉱石
ウ 石油 エ ボーキサイト



資料Ⅱ ある鉱産資源の国別産出量(2009年)(10万t)

中国	2800
オーストラリア	2280
ブラジル	1992
インド	1570
ロシア	532

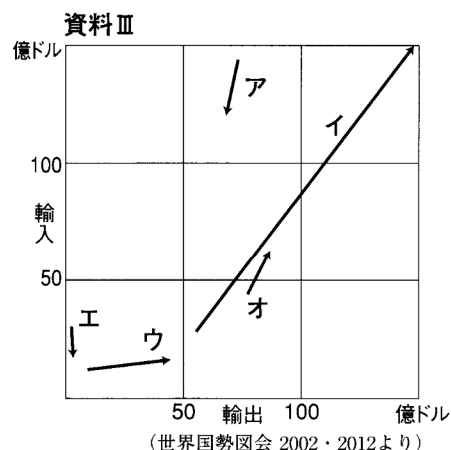
(世界国勢図会 2012より)

- (6) 次の文は、あるEU加盟国の農業について述べたものです。その国名を下のア～エから1つ選び、記号で答えなさい。

EU最大の農業生産国であり、特に小麦の生産量が多い。またブドウも多く栽培され、ワインの原料となっている。

ア フランス イ イタリア
ウ イギリス エ スペイン

- (7) 資料Ⅲは日本と中国・ブラジル・オーストラリア・アメリカ・EUとの貿易の変化(2000年→2010年)についてあらわしたものです。中国にあてはまるものをア～オから1つ選び、記号で答えなさい。



3 右の表は、古代・中世社会のようすをまとめたものです。次の問いに答えなさい。

- (1) 次の資料は、下線部 a が役人の心得などを示したものです。これは何と呼ばれているものか、書きなさい。

一にいう、和をたつとび、人と争うことのないように心がけなさい。
 二にいう、あつく^{さんぼう}三宝を敬いなさい。三宝とは仏・法・僧である。
 三にいう、天皇の命令には必ず従いなさい。
 <日本書紀 一部要約>

時代	おもなできごと
飛鳥	a 聖徳太子が摂政となる 大宝律令が定められる
奈良	b 班田収授法が定められる
平安	X
鎌倉	c 鎌倉幕府が成立する

- (2) 下線部 b に関して、6年ごとに作成される戸籍にもとづいて6歳以上の男女に与えられた土地(公地)を何というか、書きなさい。


- (3) 次のⅠ～Ⅳは、X の時期におきたできごとについて述べたものです。その順番として正しいものを下のア～エから1つ選び、記号で書きなさい。

- Ⅰ 藤原氏による摂関政治が栄える一方、不正を働く国司も現れ地方政治は乱れていった。
 Ⅱ 保元・平治の乱を制した武士・平清盛が太政大臣となり、思うままの政治を行った。
 Ⅲ 仏教の力で国を守ろうと、都に東大寺大仏や地方には国分寺・国分尼寺を建てた。
 Ⅳ 天皇が位をゆずって上皇となり、摂関家をおさえてこれまでにない政治を行った。

- ア Ⅱ→Ⅳ→Ⅲ→Ⅰ イ Ⅰ→Ⅲ→Ⅱ→Ⅳ
 ウ Ⅲ→Ⅰ→Ⅳ→Ⅱ エ Ⅲ→Ⅳ→Ⅱ→Ⅰ

- (4) 下線部 c からはじまった武家社会に関して右の歴史新聞を作りました。次の問いに答えなさい。

- ① 傍線部 A に対して、てがらにちじて与えられた役職を書きなさい。
 ② B に当てはまる法律名を書きなさい。
 ③ C に当てはまる一文を、「将軍と御家人の関係図」を参考に、記事が完成するように簡潔に書きなさい。
 ④ D にふさわしい人物を次のア～エから1つ選び、記号で書きなさい。



歴史新聞 2013(平成25)年2月7日(木)

鎌倉に武家政権誕生

源頼朝は、武士ながら朝廷の政治を思いのままに動かしていた平氏に代わり、源氏とゆかりの深い鎌倉の地に、将軍と御家人が主従関係に結ばれた新しい政権をつくりました。

執権北条泰時、(B)を制定

幕府は、御家人の権利や義務など武士社会の習慣をまとめ、紛争処理の基準となる法律を定めました。これはその後の武士社会の Handbook となりました。

元軍撃退するも高まる幕府への不満

御家人の活躍や暴風雨などもあり、二度の元軍襲来を退けた幕府。さらに九州警固の任が続いた御家人達の負担は大きく、それらに対する C ため、御家人達は幕府に不満をつのらせています。

将軍と御家人の関係図

将	軍
御恩 ↓	↑ 奉公
御家人	

D

新たな支配者となった武士たちによって、素朴でわかりやすい文化が育ちます。そんな中、「一心に「南無阿弥陀仏」と念仏を唱えるだけで極楽浄土に生まれ変われる」と、わかりやすい仏教が庶民の心をとらえ広がっています。

4 年表と資料を見て、あとの問いに答えなさい。

資料 I

第11条 国民は、すべての基本的人権の享有を妨げられない。この憲法が国民に保障する…


資料 II

一、広く会議ヲ興シ、万機公論ニ決スヘシ。
一、上下心ヲ一ニシテ、盛ニ経綸ヲ行フヘシ。

資料 III


第29条 日本臣民ハ法律ノ範囲内ニ於テ言論著作印
行集会及結社ノ自由ヲ有ス。

資料 IV



(「大阪朝日新聞」より)

資料 V



年表

年	できごと	
1853	a <u>ペリーが浦賀に来航</u>	
1868	b <u>五箇条の御誓文</u> 発布	
1874	民撰議院設立建白書を提出	↑ A ↓
1889	c <u>大日本帝国憲法</u> の発布	
1894	d <u>日清戦争</u> 開始	
1904	日露戦争開始	
1914	第一次世界大戦開始	↑ B ↓
1925	普通選挙法制定	↓ C ↓
1937	日中戦争開始	↓ D ↓
1945	ポツダム宣言を受諾	
1946	e <u>日本国憲法</u> の公布	
1951	f <u>サンフランシスコ平和条約</u> 締結	↑ E ↓
1964	東海道新幹線が開通	

- (1) 年表の下線部 a のころの欧米社会のようすとして適切なものを、ア～エから1つ選び、記号で答えなさい。

- ア 大航海時代の新航路開拓に続き、アジアやアメリカ大陸との貿易が活発に行われた。
- イ 工業の発展と植民地獲得のために、ヨーロッパの国々が利害をめぐって対立を深めた。
- ウ 加盟国間の関税の撤廃と共通通貨が使用され、経済的統合が進められた。
- エ 産業革命によって、機械を用いて商品が大量生産されるようになった。

- (2) 資料 I～III は、年表の下線部 b, c, e の抜粋です。それぞれの組み合わせとして適切なものを、右のア～エから1つ選び、記号で答えなさい。

	I	II	III
ア	c	b	e
イ	e	c	b
ウ	b	e	c
エ	e	b	c


- (3) 次の文は、年表の A の時期を説明したものです。() 内の語句から適切なものをそれぞれ1つずつ選び、書きなさい。

このころは ① (**文明開化**, **大正デモクラシー**) の時期で、欧米文化がさかんに取り入れられた。その中でも人間の平等や民主主義思想をわかりやすく説いた ② (**吉野作造**, **福沢諭吉**) の著書が青年たちに大きな影響をあたえた。

- (4) 年表の下線部 d のあとに獲得した遼東半島を中国に返還するように迫った国は、フランス、ドイツと、もう1か国はどこか、書きなさい。
- (5) 資料IVの事件が起きた時期の社会のようすを述べたものとして適切なものを、次のア～エから1つ選び、記号で答えなさい。
- ア 政府の外交に対する不満や政党政治に対する不審が高まるなかで満州事変が起こり、軍部の行動が活発になった。
 - イ 新政府の改革に不満をもった士族たちが専制的な政治に対する批判を強め、西日本各地で武力蜂起した。
 - ウ シベリア出兵による米の買い占めのために米価が高騰し、米の安売りを求めて全国的な米騒動となった。
 - エ 全国的に世直し一揆が起こり、各地で「ええじゃないか」といって人々が熱狂する騒ぎが起きた。
- (6) 年表の下線部 f の条約とあわせて結ばれた条約を、漢字8文字で書きなさい。
- (7) 資料Vはある家庭のようすを写したものです。年表の B～E のどの時期のものか、1つ選び、記号で答えなさい。

5 下の資料Ⅰ～Ⅳを見て、あとの問いに答えなさい。

資料Ⅰ



内閣信任投票の記事
〔『富山新聞』昭和55年5月17日より〕

資料Ⅱ

衆議院議員選挙で一票の価値に大きな格差があるのは選挙権の平等に違反するが、選挙は無効としない。

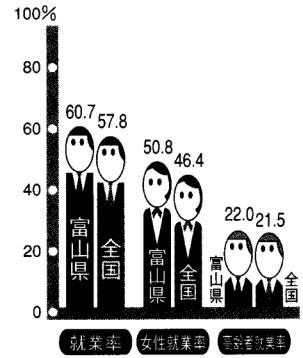
1976年 議員定数不均衡裁判判決文（一部抜粋）

資料Ⅲ



アウンサン・スーチーさんの記事

資料Ⅳ



富山県就業率
〔『富山統計ワールド』より〕

(1) 資料Ⅰについて、次の問いに答えなさい。

- ① 内閣不信任案が可決された場合の内閣の行動を、次のア～エから1つ選び、記号で答えなさい。

- ア 内閣は、10日以内に衆議院を解散するか、総辞職をしなければならない。
- イ 内閣は、15日以内に衆議院を解散するか、総辞職をしなければならない。
- ウ 内閣は、10日以内に衆議院を解散するか、内閣改造をしなければならない。
- エ 内閣は、15日以内に衆議院を解散するか、内閣改造をしなければならない。

- ② 立法と行政との関係について、日本国憲法ではどのような制度を採用しているか、次の文を参考に書きなさい。

内閣は国権の最高機関である国会の信任にもとづいて成立し、国会に対して連帯して責任を負う。

(2) 資料Ⅱについて、次の問いに答えなさい。

- ① 裁判所が、国会によってつくられた法律や内閣が行う命令、規則、処分が憲法に違反しているかどうかを審査する制度を何というか、書きなさい。

- ② 最高裁判所は、法律などが合憲か違憲かについて最終決定権をもっている。このことは何といわれているか、次のア～エから1つ選び、記号で答えなさい。

- ア 再審請求 イ 司法権の独立 ウ 憲法の番人 エ 三審制

(3) 資料Ⅲについて、次の問いに答えなさい。

- ① 私たちが個人として尊重され人間らしく生きていくうえで、自由に行動することは欠かせません。日本国憲法では自由権について3つに分類しています。それは、精神の自由、経済の自由ともう1つは何か、書きなさい。

- ② 世界平和と安全を維持するためにつくられた国際組織を何というか、次のア～エから1つ選び、記号で答えなさい。

- ア UN (国際連合) イ EU (ヨーロッパ連合) ウ NGO (非政府組織) エ ASEAN (東南アジア諸国連合)

- (4) 資料Ⅳから読みとれることを 内の言葉を使い書きなさい。また、1985年に女性差別をなくすためにつくられた法律名を書きなさい。

女性就業率 高齢者就業率

6 次の問いに答えなさい。

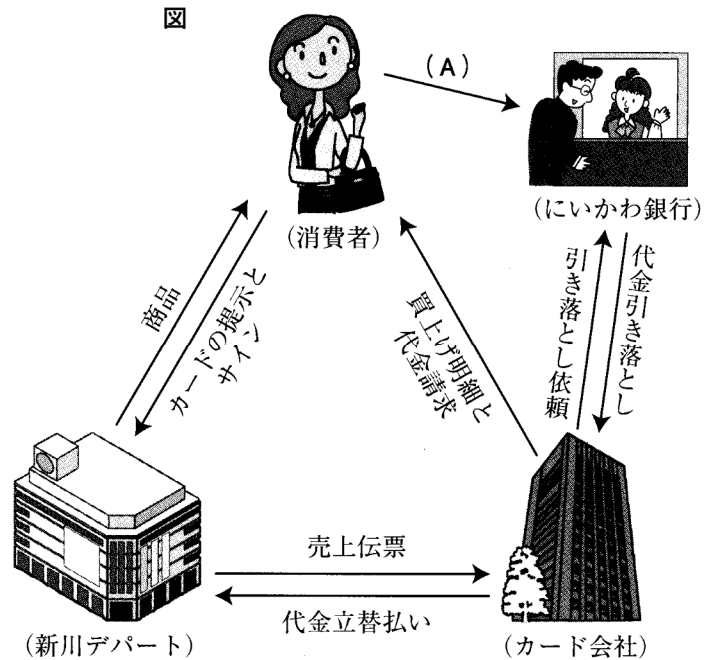
(1) 右の図はカードにより商品を購入するときの仕組みをあらわしたものです。次の問いに答えなさい。

① ここで使用されるカードは次のア～エのどれか、1つ選び、記号で答えなさい。

- ア ライセンスカード
- イ ポイントカード
- ウ クレジットカード
- エ プリペードカード

② 図中の(A)にあてはまる語句を次のア～エから1つ選び、記号で答えなさい。

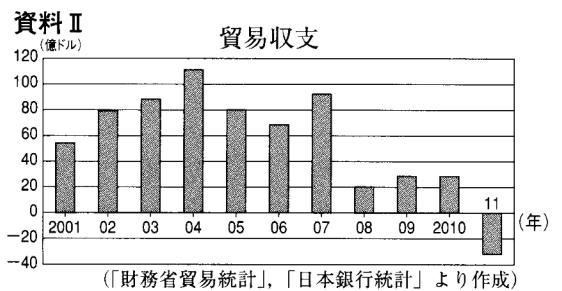
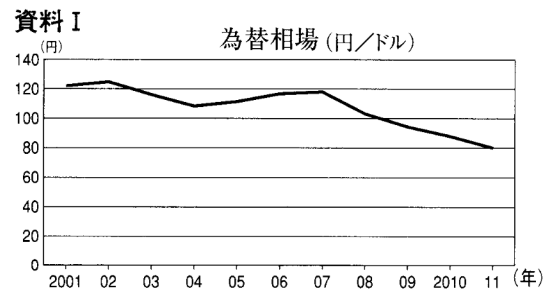
- ア 預金 イ 税金
- ウ 借り入れ金 エ 配当金



③ このカードを使用する際に気をつけなければならないことを書きなさい。

(2) 資料Ⅰと資料Ⅱは為替相場と日本の貿易の推移を示したものです。このグラフから読み取れることを次の文の()内の語句から適切なものをそれぞれ1つずつ選び、書きなさい。

ドルに対して円の価値が①(高く, 安く)なったため、輸出額が輸入額よりも②(多く, 少なく)なり、貿易収支はマイナスになった。



(3) 資料Ⅲについて、次の問いに答えなさい。

- ① 記事のAにあてはまる法律名を書きなさい。
- ② 労働条件の改善を求めて、使用者と対等な立場で話し合うために労働者がつくる組織は何か、書きなさい。

資料Ⅲ

長時間労働抑制狙う 改正(A)法、施行1カ月

残業代割増率が倍に

(「朝日新聞」2010年4月28日号より)