

平成24年度

入学者選抜学力検査問題

検査1 社 会

9：10 ～ 10：00

注 意

- 1 監督の先生の指示があるまで、開いてはいけません。
- 2 問題は、6ページあります。
- 3 「開始」の合図があったら、はじめなさい。
- 4 答えは、すべて、解答用紙に記入しなさい。
- 5 「終了」の合図で、すぐ筆記用具をおき、解答用紙を裏返しにしなさい。
- 6 その他、監督の先生の指示に従いなさい。

荒井学園 新川高等学校

1 東日本大震災について、地図や資料を見て、あとの問いに答えなさい。

(1) 日本列島で地震が多く発生するのは、比較的新しい山脈があつまっている造山帯に属するためです。その造山帯名を書きなさい。

(2) 資料Ⅰの [] は、東日本大震災の被災者生活再建支援法が県内全域で適用地域となった7つの県です。資料Ⅰの中のX・Yの県名を書きなさい。

(3) 三陸海岸の複雑な海岸線の入り組んだところでは、とくに津波が高くなっていました。この複雑な海岸地形を何というか書きなさい。

(4) 東京湾岸の埋立地などでは地震で砂まじりの水が地表に噴出し、資料Ⅱのような大きな被害が発生しました。この現象を何というか書きなさい。

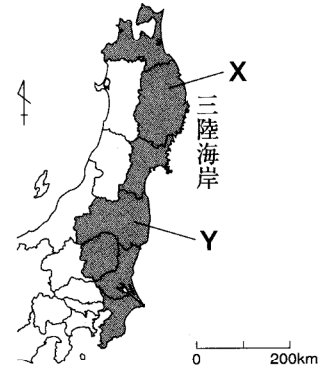
(5) 宮城県では日本有数の養殖業が被害を受けました。資料Ⅲが示す水産物を、次のア～エから1つ選び、記号で答えなさい。

- ア のり イ 真珠
ウ うなぎ エ かき

(6) 工業も大きな被害をうけ、とくに自動車工業の生産は一時的に半減しました。資料Ⅳ～Ⅵをもとに下の語句を使ってその理由を説明しなさい。

組立 部品 供給

資料Ⅰ 被災者生活再建支援法適用県

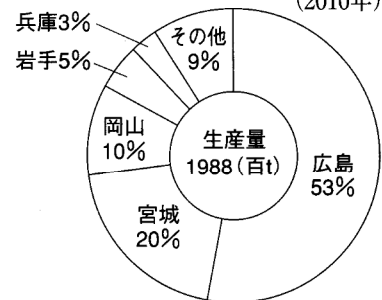


資料Ⅱ



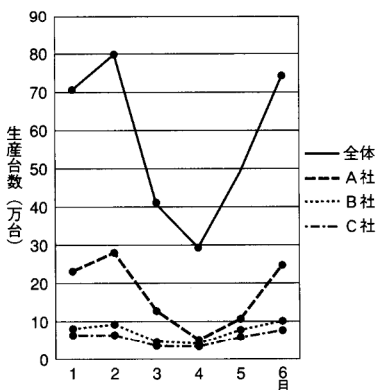
せり上がったマンホール
(千葉県浦安市広報号外より)

資料Ⅲ ある水産物の生産量割合 (2010年)



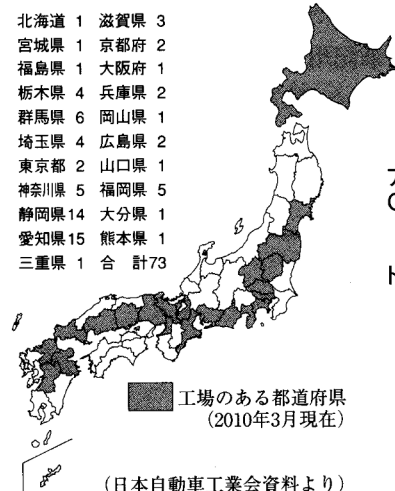
(農林水産省統計表より)

資料Ⅳ 月別自動車の生産の推移
2011年1月～6月



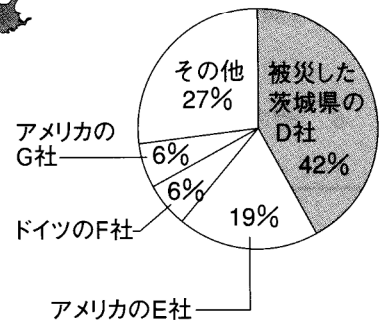
(日本自動車工業会データベースより)

資料Ⅴ 自動車の組立工場の分布



(日本自動車工業会資料より)

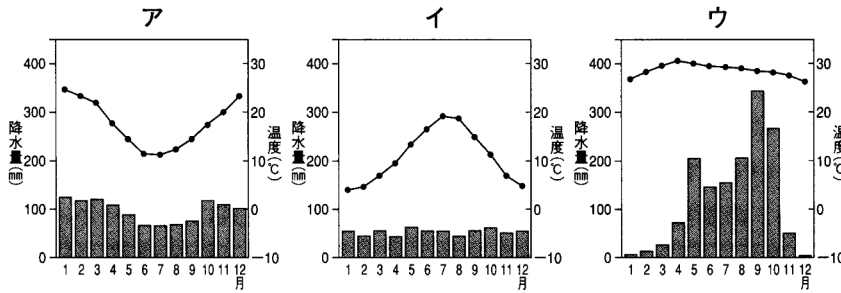
資料Ⅵ 自動車専用マイコン (半導体)の世界シェア



(2009年ルネサス調べ)

2 地図や資料を見て、あとの問いに答えなさい。(地図ⅠⅡⅢの縮尺はそれぞれ違う)

(1) 地図ⅠのX国の首都の雨温図を次のア～ウから1つ選び、**地図Ⅰ**
記号で答えなさい。



(2) 地図ⅠのX国ではある農産物の輸出が盛んです。資料Ⅰをみて、その農産物名を次のア～エから1つ選び、記号で答えなさい。

- ア 小麦 イ 米
ウ とうもろこし エ ジャガイモ

資料Ⅰ ある農産物の国別輸出割合 (2007年)

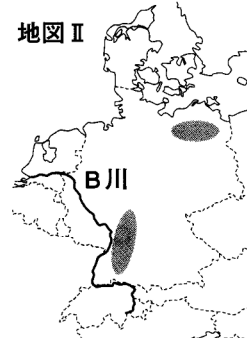
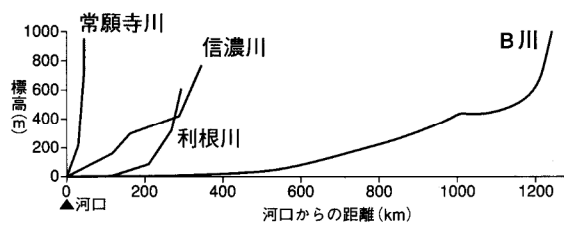
X国	インド	バトナム			その他
28%	19%	14%			21%
			パキスタン 9%		アメリカ 9%

(世界国勢図会 2010/11より)

(3) 地図ⅡのB川は国際河川として物資の輸送に大きな役割を果たしてきました。資料Ⅱを参考にその要因を下の語句を使って説明しなさい。

流れ 流量

資料Ⅱ おもな河川の勾配

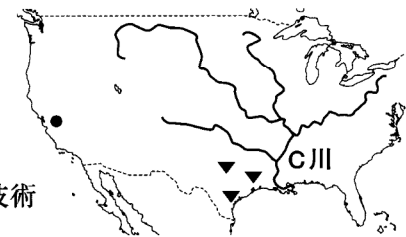


(4) 地図Ⅱの●で示した地域では森林が枯れたり、石の建物がいたんだりするなどの被害が多くみられます。このような被害は何によるものか書きなさい。

(5) 地図Ⅲの▼で示す地下資源名を次のア～エから1つ選び、記号で答えなさい。

- ア 石油 イ 石炭 ウ 鉄鉱石 エ 金

地図Ⅲ



(6) 地図Ⅲの●で示した地域では、コンピュータなどの先端技術産業が発達しています。この地域を何というか書きなさい。

(7) A川・B川・C川の名前の組み合わせを次のア～ウから1つ選び、記号で答えなさい。

	A川	B川	C川
ア	ライン	ミシシッピ	チャオプラヤ
イ	ミシシッピ	チャオプラヤ	ライン
ウ	チャオプラヤ	ライン	ミシシッピ

3 次の年表Ⅰ・年表Ⅱを見て、あとの問いに答えさい。

(1) 年表Ⅰについて、次の問いに答えなさい。

- ① Aの政治に関して述べた次の文の(a)・(b)に適する語句の組み合わせとして正しいものを、次のア～エから1つ選び、記号で答えなさい。

聖徳太子は仏教の考えを取り入れて(a)を定め、家柄にとらわれないで才能や功績があった人物を取り立てる(b)の制度を採用した。

ア a 十七条の憲法 ・ b 参勤交代
ウ a 御成敗式目 ・ b 参勤交代

イ a 十七条の憲法 ・ b 冠位十二階
エ a 御成敗式目 ・ b 冠位十二階

- ② 聖徳太子が建てた寺院を、次のア～エから1つ選び、記号で答えなさい。



- ③ Bのときに行われた改革として正しいものを、次のア～エから1つ選び、記号で答えなさい。

ア 土地と人民は国家の直接支配になった。
イ 土地と人民は豪族に支配された。
ウ 土地の所有者に地券が発行された。
エ 開墾した土地は自分のものにできるようになった。

- ④ 【C】にあてはまる法令を書きなさい。

- ⑤ Dはどここの国の都をモデルとしたか、当時の国名で書きなさい。

年表Ⅰ

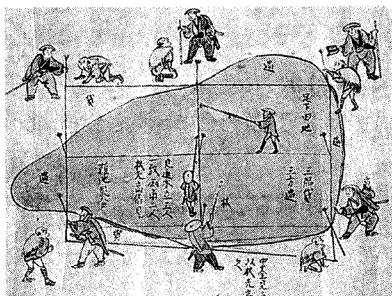
年	おもなできごと
592	推古天皇即位 聖徳太子が摂政になる…A
645	大化の改新が始まる…B
663	白村江の戦いで大敗する
701	【C】が定められる
710	都を平城京に移す…D

(2) 年表Ⅱについて、次の問いに答えなさい。

- ① 下の資料は【E】に関係することです。

【E】にあてはまる語句を書きなさい。

資料



年表Ⅱ

年	おもなできごと
1582	豊臣秀吉【E】を始める
1587	バテレン追放令を出す
1588	豊臣秀吉が 刀狩りを行う…F

- ② Fについて、その目的を書きなさい。

4 次の年表Ⅰ・年表Ⅱを見て、あとの問いに答えなさい。

(1) 年表Ⅰについて、次の問いに答えなさい。

① Aの後、天皇を中心とした政治体制で外国(人)を追い払おうという運動が高まりました。この政治運動を何というか、次のア～エから1つ選び、記号で答えなさい。

- ア 護憲運動 イ 自由民権運動
ウ 五・四運動 エ 尊王攘夷運動

② Bの報復として、翌年鹿児島を攻撃した国はどこですか。次のア～エから1つ選び、記号で答えなさい。

- ア イギリス イ オランダ ウ フランス エ アメリカ

年表Ⅰ

年	おもなできごと
1853	ペリーが浦賀に来航……A
1854	日米和親条約
1858	日米修好通商条約
1862	生麦事件………B
1864	四国連合艦隊が 下関を砲撃する

(2) 年表Ⅱについて、次の問いに答えなさい。

① Cについて、下の写真は使節団のアメリカでの記念写真です。中央に座っている代表者の名前を書きなさい。



年表Ⅱ

年	おもなできごと
1868	明治維新
1871	欧米使節団派遣 ……C
1889	大日本帝国憲法の の公布……D
1914	第一次世界大戦
1931	満州事変おこる ……E
1937	日中戦争
1941	太平洋戦争
1945	ポツダム宣言を受諾 戦後の民主化が始まる…F

② Dはどこの国の憲法をモデルとして制定されたか、当時の国名で書きなさい。


③ Eについて次の文の(a)・(b)にあてはまる語句の組み合わせとして、正しいものをア～エから1つ選び、記号で答えなさい。

満州における日本の権益を確保するため、満州を中国から分離することを主張していた(a)は、中国の奉天郊外の(b)で南満州鉄道の線路を爆破し、それを機に軍事行動を開始した。

- ア a 政府 ・ b 柳条湖 イ a 軍部 ・ b 柳条湖
ウ a 政府 ・ b 盧溝橋 エ a 軍部 ・ b 盧溝橋

④ Fについて、右の資料は民主化政策の一つとして行われたことの結果を示したものです。この政策を何というか書きなさい。

資料 自作地と小作地の割合



5 下のⅠ～Ⅳのカードは、新川中学校の生徒が、「公民の研究」というテーマで学習したものをまとめたものです。あとの問いに答えなさい。

Ⅰ	Ⅱ	Ⅲ	Ⅳ
<p>日本の政治の基本を定めているのは日本国憲法です。その基本原理には国民主権・<u>a 基本的人権の尊重</u>・平和主義の三つがあります。前文に続いて、<u>b 第1章天皇</u>からはじまり、全部で第11章まであります。</p>	<p>裁判は、その事件の内容により、地方裁判所・家庭裁判所・簡易裁判所のどれかで行われます。 <u>c 第一審の判決に対して第二審の裁判所に控訴</u>、さらに上告することも出来ます。これは、裁判を慎重に行い人権を守るためのしくみです。</p>	<p>地方分権を充実させるには、地方自治が強化されなければなりません。地方自治の実現のために住民には、地方議会の解散などを求める <u>d 直接請求権</u>が認められています。また、住民が自分たちの住んでいる地域を自主的に治める必要があります。</p>	<p>国会議員や地方議会の議員を選ぶ選挙は、国民が政治に参加する重要な機会といえます。投票できるのは満20歳以上とされています。それ以外の制限はないため、だれにでも選挙権はあたえられています。これを <u>e 普通選挙</u>といえます。</p>

(1) カードⅠについて、次の問いに答えなさい。

① 下線部 a について、日本国憲法第25条で保障されている「健康で文化的な最低限度の生活を営む権利」を何というか書きなさい。

② 下線部 b について、天皇は内閣の助言と承認のもとに国事行為を行うが、次のア～エのなかで天皇の国事行為でないものを1つ選び、記号で答えなさい。

- ア 法律の公布 イ 衆議院の解散 ウ 条約の締結 エ 栄典の授与

(2) カードⅡについて、次の問いに答えなさい。

① 右の図は裁判の法廷の様子を描いたものです。民事裁判・刑事裁判のどちらの様子を描いたものか答えなさい。また、その理由も書きなさい。



② 下線部 c について、この制度を何というか書きなさい。

(3) カードⅢについて、次の問いに答えなさい。

① 下線部 d について、有権者数が30,000人の地方公共団体の場合、条例の制定・改廃の請求に署名は最低何人必要か、書きなさい。

② 地方公共団体の仕事でないものを、次のア～エから1つ選び、記号で答えなさい。

- ア 国道の建設 イ 公立小学校の建設
ウ 高齢者福祉と障害者福祉 エ 上下水道の整備

(4) カードⅣについて、選挙の四原則のうち、下線部 e 以外の三つを書きなさい。

6 資料を見て、あとの問いに答えなさい。

(1) 資料Ⅰ・資料Ⅱについて次の問いに答えなさい。

① 予算の審議について適切なものを次のア～エから1つ選び、記号で答えなさい。

ア 衆議院と参議院で議決内容が異なった場合、衆議院で出席議員の3分の2以上の多数で再度可決されたら成立する。

イ 予算はさきに衆議院に提出しなければならない。

ウ 衆議院で可決し参議院が30日以内に議決しない場合、予算案を作り直さなければならない。

エ 予算の審議には各議院の総議員の3分の2以上の出席が必要である。

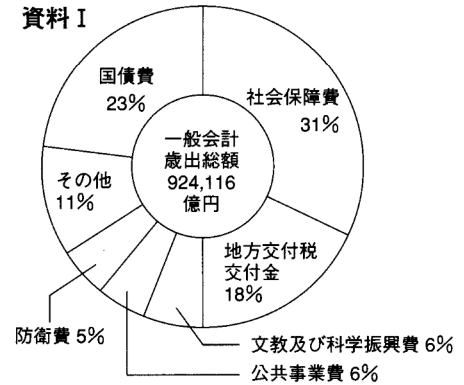
② 資料Ⅱのa～cの税の中で納税者と税負担者の違うものはどれか、1つ選び、記号で答えなさい。

③ 次の文は、平成23年度の予算について述べたものです。()に適する語句を、資料Ⅰ、資料Ⅱの語句から選び、書きなさい。

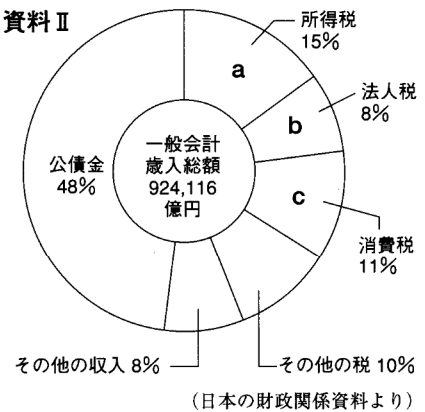
財政収入は租税収入が中心になるべきだが、(ア)が大きな割合をしめる。しかし、これは期限が来れば返済しなければならないため(イ)の支出が大きな割合を占めている。

平成23年度一般会計予算について

資料Ⅰ



資料Ⅱ



(2) 財政の働きについて説明した次の文の()の中の正しいものを○で囲みなさい。

財政は、景気を調整するための手段として用いられる。景気がア(良い 悪い)ときは減税を行ったり、公共事業への支出をイ(増やし 減らし)たりして、消費や生産活動を活発にしようとする。

(3) 右の図をみて、問いに答えなさい。

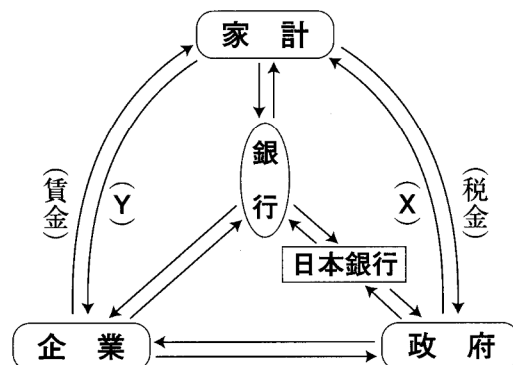
① 日本銀行の働きとして適切ではないものを、次のア～エから1つ選び、記号で答えなさい。

ア 国民からお金を預かり、融資をする。

イ 金利政策により、経済の安定化をはかる。

ウ 政府の資金の出し入れを行う。

エ 紙幣を発行する。



② 図中の(X)・(Y)に適する語句の組み合わせとして適切なものを、次のア～エから1つ選び、記号で答えなさい。

ア X 公共サービス ・ Y 代金

イ X 代金 ・ Y 公共サービス

ウ X 公共サービス ・ Y 労働力

エ X 労働力 ・ Y 代金