

平成27年度

入学者選抜学力検査問題

検査1 社 会

9：10 ～ 10：00

注 意

- 1 監督の先生の指示があるまで、開いてはいけません。
- 2 問題は、6ページあります。
- 3 「開始」の合図があったら、はじめなさい。
- 4 答えは、すべて、解答用紙に記入しなさい。
- 5 「終了」の合図で、すぐ筆記用具をおき、解答用紙を裏返しにしなさい。
- 6 その他、監督の先生の指示に従いなさい。

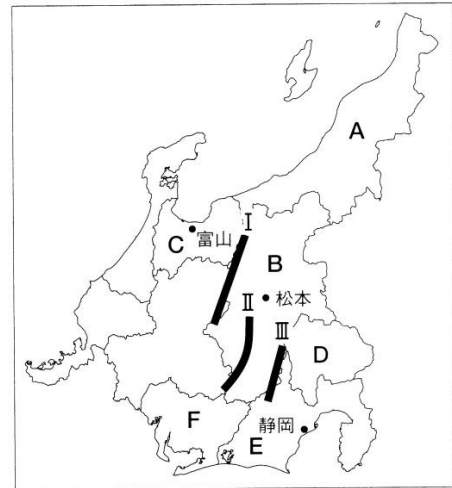
荒井学園 新川高等学校

1 地図を見て、あとの問いに答えなさい。

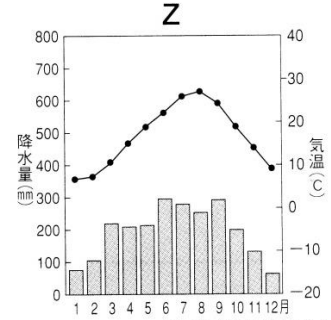
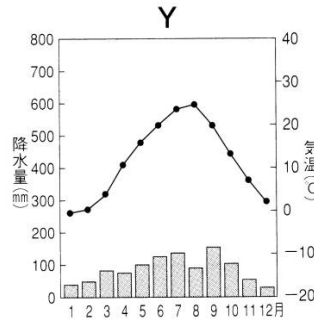
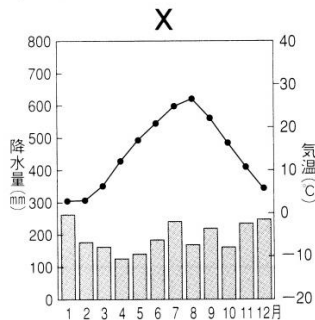
(1) A県を流れる日本で一番長い川の名前を漢字で書きなさい。

(2) 地図中I, II, IIIの山脈を示す組み合わせとして正しいものを次のア～オから1つ選び、記号で答えなさい。

- |   |      |       |        |
|---|------|-------|--------|
| ア | I 飛騨 | II 木曾 | III 赤石 |
| イ | I 木曾 | II 鈴鹿 | III 越後 |
| ウ | I 飛騨 | II 赤石 | III 木曾 |
| エ | I 木曾 | II 越後 | III 鈴鹿 |
| オ | I 飛騨 | II 木曾 | III 奥羽 |




(3) 次の雨温図は松本、富山、静岡のものです。松本にあてはまるものをX～Zから1つ選び、記号で答えなさい。



(平成24年理科年表より)

(4) 中央高地にある盆地周辺には写真のような地形が広がっています。下の問いに答えなさい。



資料Ⅰ ぶどうの生産量



ももの生産量



(日本国勢図会2013/14より)

① このような地形を何というか書きなさい。

② このようなところでは果樹栽培が盛んです。資料ⅠのWにあてはまる県を地図中A～Fから1つ選び、記号で答えなさい。

資料Ⅱ 工業出荷額 (2012年)


(5) 地図中F県について次の問いに答えなさい。

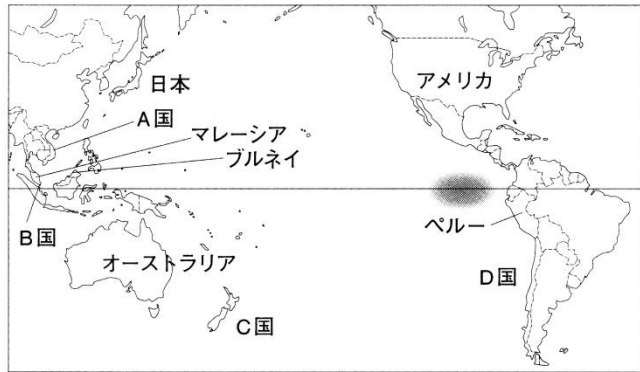
① 資料Ⅱは、B・C・F県の工業出荷額の比較図です。F県にあたるものをア～ウから1つ選び、記号で答えなさい。

② F県を中心に大規模な工業地帯が広がっています。その工業地帯名を書きなさい。



2 地図で示された国々について、あとの問いに答えなさい。

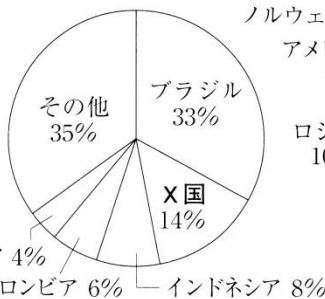
- (1) 世界各地で異常気象が発生しています。その原因ともいわれる、地図中  で示す海域の水温が高い状態が長く続く現象を何というか書きなさい。



- (2) 資料Ⅰの示す農産物名を下のア～エから1つ選び、記号で答えなさい。また、資料ⅠのX国にあてはまる国を地図中A～Dから1つ選び、記号で答えなさい。

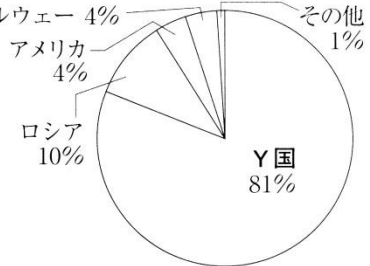
- ア カカオ           イ サトウキビ  
ウ コーヒー       エ 綿花

資料Ⅰ  
ある農産物の主要生産国の生産割合(2012年)



(世界国勢図会2013 14より)

資料Ⅱ  
日本の冷凍サケ・マスのおもな輸入先(2012年)



(平成25年東京税関資料より)

- (3) 資料ⅡのY国では、1978年に日本企業によるサケの養殖事業が開始されました。Y国にあてはまる国を地図中A～Dから1つ選び、記号で答えなさい。

- (4) 下の文が示す国をアメリカ・オーストラリア・マレーシア・ペルーの中から選び、その国名を書きなさい。

この国は多民族国家で、さまざまな宗教が信仰されており、その中でも国教であるイスラム教を信仰している人々の割合が多い。このほか中国系は仏教徒、インド系はヒンドゥー教徒が多い。また、イギリス植民地時代の影響でキリスト教徒もいる。気候は熱帯雨林気候に属し、国土の70%が熱帯林で覆われている。

- (5) 資料Ⅲはアメリカ・オーストラリア・マレーシア・ペルーから日本への輸出品を示したものです。オーストラリアにあてはまるものをア～エから1つ選び、記号で答えなさい。

資料Ⅲ 日本への輸出品 (2012年) (%)

ア		イ		ウ		エ	
機械類	39.1	石炭	62.1	液化天然ガス	41.0	銅精鉱	58.4
航空機類	27.1	液化天然ガス	23.2	機械類	18.4	液化天然ガス	17.5
科学光学機器	6.9	鉄鉱石	19.2	石油製品	13.5	魚類	6.4
医薬品	2.3	肉類	3.4	原油	3.7	亜鉛	5.1
とうもろこし	2.3	原油	2.7	合板	2.8	鉛	3.3

(世界国勢図会2013 14より)

- (6) 地図で示された環太平洋地域の10か国は、経済の自由化を目的とした環太平洋戦略的経済連携協定の締結に向けて交渉を続けています。(2014年12月現在) この協定をアルファベット3文字で書きなさい。

3 右の年表を見て、あとの問いに答えなさい。

(1) 年表中の  にあてはまる人名を書きなさい。

(2) A・Bに関して、中国の皇帝にたびたび使いを送った目的を書きなさい。


(3) Cに関して、戸籍にもとづいて口分田を支給し、税を納めさせる制度を何というか書きなさい。

世紀	できごと
1	A 倭の奴国王、金印を賜る
2	古墳時代始まる
3	B 邪馬台国の女王卑弥呼、「親魏倭王」の称号とその金印、銅鏡百枚を賜る
4	百済や伽耶と結んで高句麗や新羅と戦う
5	「倭の五王」、中国南朝に使いを送る
6	渡来人が飛鳥文化形成に貢献
7	大化の改新
8	C 大宝律令 D 墾田永年私財法
9	<input type="text" value="X"/> が遣唐使の派遣中止を建議
10	E 安定した摂関政治が展開

(4) Dに関して、この法令のねらいとして正しいものを、次のア～エから1つ選び、記号で答えなさい。

- ア 公地公民の制度を撤廃しようとした。 イ 調による税収を増やそうとした。  
ウ 農地を拡大し、租を増やそうとした。 エ 農地の売買を禁止しようとした。

(5) 右の写真は仏教の力で国を守ろうと、都(平城京)で造立されたものです。これに対し、地方の国々に造らせたものは何か、書きなさい。



(6) Eに関して、次の和歌を詠んだ人物は誰か、書きなさい。


この世をば わが世とぞ思う もちづき 望月の  
欠けたることも 無しと思えば

(7) 平安時代にはぐくまれた国風文化の作品を、次のア～エから1つ選び、記号で答えなさい。

ア



イ



ウ



エ



4 次の正子と祖父の会話文を読んで、あとの問いに答えなさい。

正子： おじいちゃん、去年は第一次世界大戦が始まってちょうど100年目にあたる年だったんだよね。

祖父： よく知っているな。学校で習ったのか？

正子： うん。はじめはドイツに支援されていた  とセルビアの問題だったのよね。ヨーロッパの戦争なのにどうして日本も参戦したの？

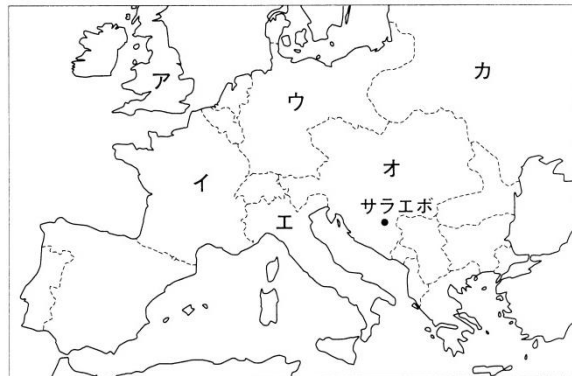
祖父： 明治時代に、日本が同盟を結んだ  がドイツに宣戦布告したからなんだ。はじめは、4年以上も続く世界大戦になるとは誰も思ってなかったんだが、周辺国が次々と宣戦布告し、さらにアメリカも途中で参戦して、大戦争になったんだ。セルビアを支援していた a ロシアは途中で手を引くんだが、アジアやアフリカの植民地からも動員がかけられて、総力戦になっていったんだ。

正子： 日本はどこで戦ったの？

祖父： 日本は、中国の山東半島に派兵したんだ。そしてドイツが持っていた中国権益を、日本が継承することを中国に認めさせたことが b 反日感情を一気に高めていくことになったんだ。

- (1) 会話文中の   にあてはまる国を地図中のア～カから選び、それぞれ記号で答えなさい。

第一次世界大戦中のヨーロッパ



- (2) 右の史料は第一次世界大戦直前のヨーロッパの国際関係について描いたものです。この国際紛争の火種となった地域名を書きなさい。



- (3) 下線部 a について、その理由として正しいものを、次のア～エから1つ選び、記号で答えなさい。

ア 日露戦争が始まった。      イ 世界恐慌がおこった。  
ウ ロシア革命が始まった。      エ シベリア出兵が始まった。

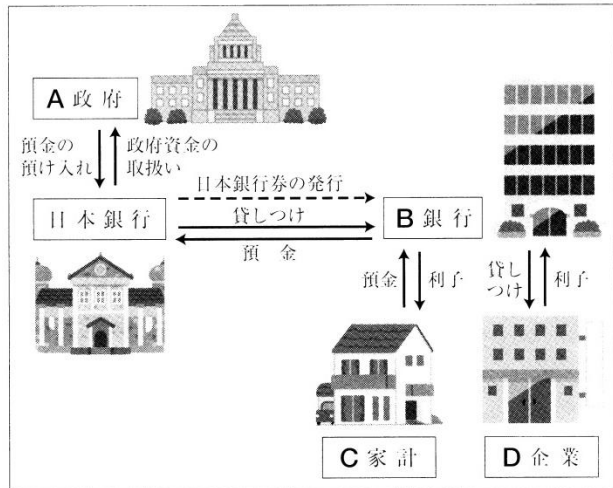
- (4) 下線部 b について、1919年の北京での学生集会をきっかけに、中国国内で始まった反日や反帝国主義の国民運動を何というか書きなさい。

- (5) 第一次世界大戦終了後、国際平和と国際協調のために設立された国際機関名を書きなさい。

5 図を見て、あとの問いに答えなさい。

(1) 図中Aは、日本国民の生活をサポートするために社会保障制度を実施しています。その中の社会保険は大きく分類すると5つの種類があります。医療保険以外で、すべての国民が加入するよう義務づけられているものを次のア～エから1つ選び、記号で答えなさい。


- ア 労災保険      イ 介護保険  
ウ 年金保険      エ 雇用保険




(2) 図中Bの業務として、間違っているものをア～エから1つ選び、記号で答えなさい。




ア お金を送る



イ 両替




ウ お金の製造




エ 給料の振り込み

(3) 図中CはDに対して労働力を供給しています。労働者を守るために労働基準法がありますが、この法律に反するものを次のア～エから1つ選び、記号で答えなさい。



ア 労働者と使用者は対等である。



イ 性別により賃金が異なる。



ウ 労働時間は週40時間、1日8時間以内。



エ 少なくとも週1日は休日がある。

(4) 図中Dが販売する商品と価格に関する次の問いに答えなさい。

- 右のグラフ中Pが示す、需要曲線と供給曲線が交わってきまる価格を何というか書きなさい。
- 少数の大企業が商品の生産や販売を支配している状態を何というか書きなさい。
- 価格競争が弱まると、消費者は不当に高い価格を支払わされることがあります。そこで、競争を促すために制定された法律を何というか書きなさい。

